

MUNICÍPIO DE PRESIDENTE CASTELLO BRANCO

ESTADO DE SANTA CATARINA

EDITAL DE CONCURSO PÚBLICO N.º 001/2019

19 DE MAIO DE 2019

CARGO:
AGENTE DE SERVIÇOS GERAIS III

INSTRUÇÕES

Este Caderno de Questões contém **30 questões**, constituídas com cinco opções (A, B, C, D, E) e **uma única resposta correta**. Em caso de divergência de dados e/ou de defeito no Caderno de Questões, solicite providências ao fiscal de sala.

Você receberá juntamente com o Caderno de Questões, o **Cartão Resposta**, o qual deverá ser preenchido atentamente com **Nome, Assinatura, Nº da Identidade e as respostas por questão**.

As respostas do Caderno de Questões deverão ser transcritas para o Cartão Resposta, com caneta esferográfica de tinta azul ou preta, de acordo com as orientações de preenchimento abaixo.

01	A	<input checked="" type="checkbox"/>	C	D	E
02	A	B	<input checked="" type="checkbox"/>	D	E
03	A	B	C	<input checked="" type="checkbox"/>	E
04	A	B	C	D	<input checked="" type="checkbox"/>

O **Cartão Resposta** é o único documento válido para a correção das provas e o não preenchimento correto implica a anulação da questão. **Não será fornecido**, em hipótese alguma, novo Cartão Resposta por erro de preenchimento por parte do candidato. O Cartão Resposta é **insubstituível** e de inteira responsabilidade do candidato, por isso não deve ser amassado, dobrado, rasgado ou rasurado.

Durante a realização das provas **não será permitida qualquer consulta a materiais**, sejam didáticos ou eletrônicos. O candidato que for flagrado fazendo uso desses materiais estará automaticamente **eliminado** do Concurso Público.

A **interpretação das questões** é parte integrante da prova, não sendo permitido aos fiscais de sala auxiliar na interpretação.

A saída da sala de prova, com a entrega do Caderno de Questões e Cartão Resposta, somente será permitida após transcorrido **01 hora do início da mesma**.

Ao concluir a prova e o preenchimento do Cartão Resposta, **entregue o Caderno de Questões e o Cartão Resposta ao fiscal de sala**. A não entrega de qualquer um dos itens especificados acima, implicará na eliminação do candidato do Concurso Público.

O tempo de duração total da prova é de **3 horas**, incluído o tempo para preenchimento do Cartão Resposta.

Os **3 últimos candidatos** ao terminar a prova deverão permanecer juntos em sala para, juntamente com os fiscais de sala, conferir os Cartões Resposta e assinar a folha ata e o lacre dos envelopes que guardarão os Cartões Resposta e os Cadernos de Questões.

A **desobediência** a qualquer uma das determinações constantes do Edital de Concurso Público, do presente Caderno de Questões e de preenchimento do Cartão Resposta, implicará na **eliminação do candidato** do Concurso Público.

O **Gabarito Preliminar** e as **provas escritas/objetivas** estarão disponíveis, no dia **20 de maio de 2019**, no site www.alternativeconcursos.com.br.

É facultado ao candidato interpor **recurso** contra as questões da prova escrita/objetiva através do e-mail recursos@alternativeconcursos.com.br, no prazo de **21 e 22 de maio de 2019**.

01) Das alternativas abaixo qual apresenta 04 fonemas:

- a) Chute
- b) Acesso
- c) Máximo
- d) Hoje
- e) Galho

02) Em relação a compreensão e interpretação da palavra, ERRANTE significa:

- a) Honesto
- b) Impiedoso
- c) Vagabundo
- d) Andante
- e) Deserto

03) Acerca da divisão silábica, assinale a alternativa incorreta:

- a) Alternância – al.ter.nân.cia
- b) Boicote – boi.co.te
- c) Consciência – cons.ci.ên.cia
- d) Familiar – fa.mi.li.ar
- e) Poesia – poe.sia

04) Acerca do uso do Mas e Mais, analise as alternativas e assinale a resposta incorreta:

- a) Quero ir mais vezes ao cinema.
- b) Hoje nossas relações estão mais justas.
- c) Sou calmo, mas estou nervoso agora.
- d) Fala mal, mais não vive sem mim.
- e) Hoje acordei cansada, mas não quis deixar de trabalhar.

05) Em relação ao uso do Mal e Mau preencha corretamente as lacunas:

Logo após nascer o bebê ficou _____.
Acordei muito _____ hoje.
Meu avô era um homem _____.

Respectivamente temos:

- a) mal – mal – mau
- b) mau – mal – mau
- c) mau – mau – mal
- d) mal – mau – mau
- e) mau – mal – mal

06) Assinale a alternativa em que pelo menos uma palavra foi incorretamente grafada com SS:

- a) Concessão – Processo – Prosseder
- b) Regressão – Progresso – Transgressão
- c) Permissão – Admissão – Emissão
- d) Discussão – Repercussão – Percussão
- e) Compromisso – Intromissão – Remessa

07) Acerca do plural das palavras, assinale a alternativa que apresenta erro:

- a) Gravidez - Gravidezes; Hambúrguer - Hambúrgueres
- b) Atlas - Atlas; Fuzil - Fuzis
- c) Charlatão - Charlatães; Bombom - Bombons
- d) Abdômen - Abdomens; Réptil - Répteis
- e) Lençol - Lençóis; Cristão - Cristões

08) Assinale a alternativa em que todas as palavras apresentadas são tritongos:

- a) Iguais; Quais; Quaisquer
- b) Pai; Quão; Saguão
- c) Saguões; Paraguai; Série
- d) Uruguai; Beijo; Averigui
- e) Averiguou; Paixão; Enxaguei

09) São antônimos de NEGLIGENTE, exceto:

- a) Dedicado, atencioso
- b) Atento, zeloso
- c) Desleixado, desatento
- d) Vigilante, amável
- e) Responsável, organizado

10) São palavras masculinas, exceto:

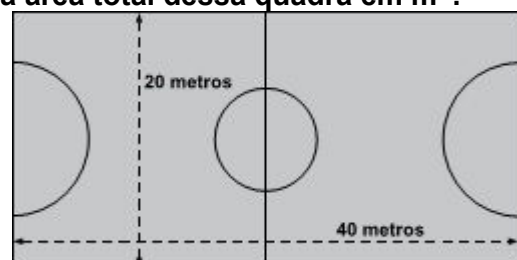
- a) Programa
- b) Sistema
- c) Reportagem
- d) Telegrama
- e) Crachá

Matemática

11) O Município de Presidente Castello Branco (SC) está realizando um campeonato de futebol de salão. Sabendo-se que houve 12 times inscritos com 05 jogadores cada, qual o total de jogares inscritos?

- a) 72
- b) 84
- c) 60
- d) 76
- e) 48

12) Uma quadra de futebol de salão possui 40 metros de comprimento e 20 metros de largura. Qual a área total dessa quadra em m²?



- a) 80m²
- b) 200m²
- c) 400m²
- d) 800m²
- e) 1.200m²

13) O Município de Presidente Castello Branco (SC) realizou uma compra de combustível. Sabendo-se que o Município adquiriu 2.500 litros de gasolina comum (R\$ 4,15 o litro), 2.500 litros de gasolina aditivada (R\$ 4,25 o litro) e 5.000 litros de diesel (R\$ 2,50 o litro), qual o valor total da compra?

- a) R\$ 41.500,00
- b) R\$ 25.000,00
- c) R\$ 33.500,00
- d) R\$ 10.000,00
- e) R\$ 42.500,00

14) Sabendo que um edifício tem 81 andares e possui 4 apartamentos por andar, qual a quantidade total de apartamentos deste edifício?

- a) 280
- b) 180
- c) 240
- d) 275
- e) 324

15) Uma caixa d'água tem capacidade de 5.000 litros. Sabendo que ela encontra-se com 30% de sua capacidade, qual a quantidade de litros existente?

- a) 3.500 litros
- b) 1.000 litros
- c) 2.500 litros
- d) 1.500 litros
- e) 3.000 litros

Conhecimentos Gerais

16) O período imperial da nossa história iniciou-se logo após a independência do Brasil, declarada em _____, quando Dom Pedro realizou o grito da independência às margens do Rio Ipiranga, em São Paulo.

- a) 15 de novembro de 1808
- b) 7 de setembro de 1822
- c) 15 de outubro de 1500
- d) 21 de abril de 1808
- e) 15 de novembro de 1889

17) Em 9 de janeiro de 1822, D. Pedro I recebeu uma carta das cortes de Lisboa, exigindo seu retorno para Portugal. Há tempos os portugueses insistiam nesta ideia, pois pretendiam recolonizar o Brasil e a presença de D. Pedro impedia este ideal. Porém, D. Pedro

respondeu negativamente aos chamados de Portugal e proclamou: "Se é para o bem de todos e felicidade geral da nação, diga ao povo que fico". Esse dia ficou conhecido como:

- a) Dia da Independência
- b) Independência ou Morte
- c) Dia do Fico
- d) Dia da Proclamação da República
- e) Primeiro Reinado

18) O Estado de Santa Catarina faz limite com, exceto:

- a) Paraná
- b) Rio Grande do Sul
- c) Oceano Atlântico
- d) Argentina
- e) Paraguai

19) O Tratado de Tordesilhas foi um documento assinado, na vila espanhola de Tordesilhas. Os protagonistas foram _____, que delimitaram, através de uma linha imaginária, as suas posses no território da América do Sul, chamado de "Novo Continente".

- a) Portugal e Espanha
- b) Brasil e Portugal
- c) França e Espanha
- d) Brasil e Espanha
- e) Espanha e Venezuela

20) No Brasão do Município de Presidente Castello Branco (SC) consta um conjunto de figuras e ornatos que representam simbolicamente o Município. O CASTELO:

- a) Representa as riquezas presentes no Município.
- b) Indica a coragem, audácia, valor, galhardia, intrepidez, nobreza conspícua, generosidade e honra.
- c) É símbolo de grandeza, defesa, proteção, magnanimidade, segurança, nobreza e forte virtude.
- d) Simboliza felicidade, pureza, verdade, franqueza, integridade e amizade, referindo-se ao clima de harmonia e compreensão de que desfrutam os Municípios.
- e) É representativo de favor e proteção.

Conteúdos Específicos

21) Acerca das características da qualidade no atendimento ao público leia as afirmações abaixo e assinale a alternativa correta:

- I. Comunicabilidade – qualidade de se comunicar facilmente, ser expansivo e claro.
- II. Apresentação – boa aparência externa, vivacidade.

III. Cortesia – urbanidade, civilidade e educação.

IV. Interesse – estar atento e com propósito de ajudar.

- a) Somente I, II e III estão corretos.
- b) Somente II, III e IV estão corretos.
- c) Somente I e III estão corretos.
- d) Somente III e IV estão corretos.
- e) Todos estão corretos.

22) Acerca do lixo reciclável leia o trecho abaixo e assinale a alternativa correta:

“Os papéis descartados pela administração pública, como é o caso _____ podem ser reciclados, devendo ser descartados na lixeira de cor _____.”

- a) das fotocópias – amarela.
- b) dos papéis higiênicos – azul.
- c) dos envelopes – marrom.
- d) dos jornais – verde.
- e) das caixas de papelão – azul.

23) (Mecânica) As imagens abaixo representam quais componentes do motor de um veículo, respectivamente?



Imagem 1




Imagem 2

- a) 1 - Bloco; 2 - Cárter.
- b) 1 - Cabeçote; 2 - Bloco.
- c) 1 - Diferencial; 2 - Cabeçote.
- d) 1 - Válvulas; 2 - Bielas.
- e) 1 - Cárter; 2 - Virabrequim.

24) (Mecânica) Acerca das ferramentas utilizadas em serviços de mecânica, a imagem abaixo representa?



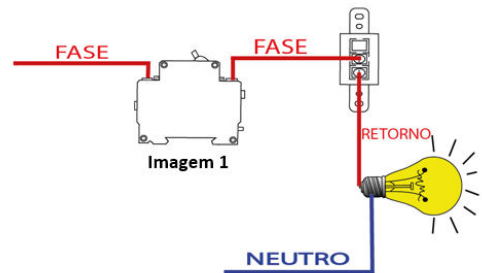
- a) Alicate de anéis.
- b) Alicate de pressão.
- c) Alicate de corte.
- d) Alicate rebitador.
- e) Alicate decapador.

25) (Elétrica) São tipos de condutores elétricos:

- I. Fio sólido.
- II. Cabo flexível.
- III. Cabo rígido.
- IV. Cabos PP.
- V. Cabos paralelos.

- a) Somente II, III e V estão corretos.
- b) Somente I, II, III e IV estão corretos.
- c) Somente II, III e IV estão corretos.
- d) Somente I, IV e V estão corretos.
- e) Todos estão corretos.

26) (Elétrica) Qual é o nome do dispositivo de proteção representado pela imagem 1 no esquema elétrico abaixo?



- a) Fusível.
- b) Relé.
- c) Disjuntor.
- d) Botoneira.
- e) Sinalizador.

27) (Elétrica) Acerca das ferramentas utilizadas em serviços de elétrica, as imagens abaixo representam, respectivamente:



Imagem 1



Imagem 2

- a) 1 - Chave teste; 2 - Multímetro.
- b) 1 - Chave torx; 2 - Amperímetro.
- c) 1 - Multímetro; 2 - Chave teste.
- d) 1 - Voltímetro; 2 - Amperímetro.
- e) 1 - Multímetro; 2 - Amperímetro.

28) (Carpintaria) Em relação aos instrumentos utilizados para marcar e verificar na carpintaria leia o trecho abaixo e assinale a alternativa correta:

“É constituído por lâmina de aço e base de madeira, aço ou alumínio. Serve para o traçado de retas que foram um ângulo de 90°.”

- a) Lápis.
- b) Riscado.
- c) Esquadro.
- d) Régua.
- e) Trena.

29) (Jardinagem) São Equipamentos de Proteção Individual – EPI indicados ao manusear uma roçadeira:

- I. Proteção para os olhos: óculos de proteção.**
- II. Proteção para os ouvidos: protetor auricular.**
- III. Proteção para as mãos: luvas resistentes.**
- IV. Botas de segurança: com proteção anticorte.**

- a) Somente I, II e III estão corretos.
- b) Somente II, III e IV estão corretos.
- c) Somente I e III estão corretos.
- d) Somente II e III estão corretos.
- e) Todos estão corretos.

30) (Pedreiro) São alguns tipos de tijolos:

- I. Cerâmico.**
- II. Refratário.**
- III. Ecológico.**
- IV. Concreto.**

- a) Somente I, II e III estão corretos.
- b) Somente II, III e IV estão corretos.
- c) Somente I, III e IV estão corretos.
- d) Somente I e IV estão corretos.
- e) Todos estão corretos.